

臺北區九十四學年度高級中學學術性向資賦優異班

人文社會組聯合甄選入學

人文社會能力測驗(一)試題本

請填寫甄選證號碼

--	--	--	--	--	--

**【試題說明】**

1. 本試題為單選題，每題有四個選項，選項為 A、B、C、D，答錯不倒扣。
2. 本試題共 12 頁。
3. 本試題分為三部分，共 70 題，總計 100 分。  
第一部分：1 至 30 題每題 1 分，共 30 分  
                  31 至 35 題每題 2 分，共 10 分  
第二部分：36 至 50 題每題 2 分，共 30 分  
第三部分：51 至 70 題每題 1.5 分，共 30 分

**【注意事項】**

1. 請核對答案卡上之號碼與甄選證號碼是否相符。
2. 請確實將甄選證號碼填入試題本上。
3. 請檢查試題本有無漏印或污損等情形。
4. 請將正確的選項用黑色 2B 鉛筆在「答案卡」相關格內劃記，答案卡不得書寫姓名，否則不予計分。答案卡畫記欄內必須塗滿，答案卡不可折損、弄髒，或令其變形。
5. 試題除印刷不清可以舉手發問外，其他一概不得發問。
6. 作答完畢，請將試題本與答案卡同時繳回，不得攜出試場外。

## 第一部份：40%

一、文意選填：(12%) 每題 1 分

第 1 至 4 題為題組

There are many things that we do not know about the history of medicine. For example, how did it start? Who was the first doctor? We will never really know the \_\_\_1\_\_\_ to these questions. However, the \_\_\_2\_\_\_ of medicine has always been the same, to cure disease and keep people in good \_\_\_3\_\_\_. It is important to society that people are healthy and lead better, longer \_\_\_4\_\_\_, so a lot of money is spent on hospitals and medicine.

- |            |             |           |             |
|------------|-------------|-----------|-------------|
| (A) health | (B) answers | (C) lives | (D) purpose |
|------------|-------------|-----------|-------------|

第 5 至 8 題為題組

Why do people in Pinshi, Taipei County, send lanterns into the sky instead of \_\_\_5\_\_\_ them up for the lantern festival? About 200 years ago, people came to Pinshi from Mainland China. Times were hard for them. What's worse, robbers would come during the New Year and \_\_\_6\_\_\_ away the harvest they gained after a whole year's hard work. Thus, at this time every year, the women, children and elders of Pinshi carried all their valuable stuff and hid in the mountains. At the end of the holiday, the men \_\_\_7\_\_\_ their homes would send lanterns into the sky if things were safe. From this \_\_\_8\_\_\_ the custom of launching sky lanterns.

- |              |          |          |             |
|--------------|----------|----------|-------------|
| (A) guarding | (B) took | (C) came | (D) hanging |
|--------------|----------|----------|-------------|

第 9 至 12 題為題組

Are you ashamed to show your \_\_\_9\_\_\_ body at the beach? Do the guys seem to laugh at you? Do the girls seem to ignore you? Well, prepare for all of that to change. How would you like to impress all the gang at the beach this summer with your incredible muscles? You would? Well then—you need to try Insta-muscle!

Insta-muscle is simple to use. Just rub in a generous amount wherever you want muscles. Insta-muscle begins to work as soon as you put it on. It isn't \_\_\_10\_\_\_ to see results in just one or two weeks. Continue to use Insta-muscle each day to build even \_\_\_11\_\_\_ muscles. Remember to buy an \_\_\_12\_\_\_ jar or two to make sure you never run out.

- |           |            |            |             |
|-----------|------------|------------|-------------|
| (A) extra | (B) bigger | (C) skinny | (D) unusual |
|-----------|------------|------------|-------------|

二、篇章結構：(8%) 每題 1 分

第 13 至 16 題為題組

People have always dreamed about traveling in space. But until recently, 13. Then, in the 1920s, the first rocket was invented. Space technology developed quickly after that. On April 12, 1961, 14. Many important space technologies have been developed since then. Reusable rockets have been introduced, satellites (人造衛星) have been sent into space, 15, and the moon has been visited.

The dream of space travel has come true, but scientists haven't stopped working on space technology. Now the goal is to go farther and stay longer in space. Some scientists even think that 16!

- |  |
|--|
| (A) the Russian astronaut Yuri Gagarin became the first person to travel in space<br>(B) space stations have been built<br>(C) space travel seemed impossible<br>(D) someday we will have the technology to live on the moon |
|--|

第 17 至 20 題為題組

Beth: What are you going to have, Rick?

Rick: I'm hungry! 17.

Amy: Ugh! How many cheeseburgers do you eat every week? You had a couple at the picnic yesterday, didn't you?

Rick: Yeah, so what? 18.

Amy: But cheeseburgers have a lot of fat and calories.

Rick: OK, OK! What are you going to have?

Amy: I'm going to have some tofu and rice.

Rick: Oh, I forgot. You're a vegetarian, right?

Amy: Right!

Beth: Hmm. 19.

Rick: Are you on a diet?

Beth: No—I just like to eat healthy food.

Rick: What are you going to have to drink?

Beth: A large cola.

Rick: A large cola? But there's lots of sugar in soda!

Beth: All right! 20. There's no sugar in that!

Rick: Great! And I'll have a salad too.

- |  |
|--|
| (A) I like hamburgers<br>(B) I'll have a diet cola<br>(C) I want a double cheeseburger and a large order of fries<br>(D) I think I'm going to have a fruit salad |
|--|

三、綜合測驗：(10%) 每題 1 分

第 21 至 25 題為題組

The Diana monkey is an interesting animal. It is interesting not only because of its name   21   because of its living habits. The Diana monkey has a white spot on its forehead which is shaped like a   22  . Since the name of the Roman moon goddess is Diana, the monkey is therefore named Diana. The Diana monkey likes to live   23   up in the trees and travel long distances through the treetops. However, it doesn't use its tail in hanging or climbing like other monkeys. It's because its tail is too   24   to use in any case. The Diana monkey lives on several kinds of insects. Sometimes when there is   25   food, it will even eat young birds.

21. (A) X                      (B) or                      (C) but                      (D) and  
22. (A) fallen leaf          (B) shooting star        (C) big eye                (D) new moon  
23. (A) high                  (B) happy                  (C) friendly                (D) lonely  
24. (A) weak                  (B) dangerous            (C) convenient            (D) comfortable  
25. (A) a little                (B) little                  (C) a lot of                (D) some

第 26 至 30 題為題組

When you feel sleepy after lunch, what do you usually do—have a cup of coffee or just keep working? According to some studies, it would be better if you take a quick nap.

Taking a nap can   26   you much good. It can reduce stress and make you learn things more   27  . It may even increase your self-confidence.

There are some rules you have to follow when taking a nap. First, take a nap in the middle of the day instead of late in the afternoon   28   that way it won't disturb your sleep at night. Next, take a nap for only twenty to thirty minutes. Don't sleep too long. It will   29   you feel worse. Last, set an alarm clock so that you won't oversleep.

Next time when you feel a little sleepy,   30   just close your eyes and have a short nap? You will certainly be energetic all day.

26. (A) be                      (B) do                      (C) help                      (D) give  
27. (A) fast                    (B) faster                    (C) easily                    (D) easier  
28. (A) then                    (B) or                        (C) but                        (D) because  
29. (A) make                    (B) let                        (C) get                        (D) drive  
30. (A) how about          (B) why don't you        (C) why                      (D) what

四、閱讀測驗：(10%) 每題 2 分

第 31 至 32 題為題組，請參照圖（一）作答

Mr. Wang has bought a house and a car recently. He bought them by borrowing money from the bank. Mr. Wang doesn't want to be in debt all his life, so he has made a plan. He will spend most of his income paying the money back to the bank. Next, he will spend most of the rest of the money on food. On holidays, Mr. Wang likes to have outdoor activities with his family. The money he spends on them will be less than that on food. As for the little money left, he will keep the greater part of it at hand, in case his family have sudden need of money, like going to see a doctor. Then he will save the last bit of money in the bank. After all, it is safer to be prepared for a rainy day.

31. What percentage of his income does Mr. Wang spend on outdoor activities?

- (A) 38%    (B) 30%    (C) 20%    (D) 8%

32. If Mr. Wang earns forty thousand dollars a month, how many months does he need to save sixteen thousand dollars?

- (A) 10    (B) 25    (C) 50    (D) 100

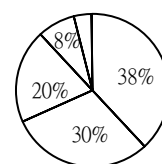


圖 (一)

第 33 至 35 題為題組

Many cultures follow special customs when a child's baby tooth falls out. In Korea, people throw the lost tooth onto the roof of a house. A magpie—a black and white bird—will take it and bring a new tooth for the child. In Mongolia, dogs are the animals responsible for children's lost teeth. The Mongolians believe their children will have strong teeth if they feed their children's lost teeth to dogs! In some Western countries like Mexico and Spain, a mouse takes the tooth and leaves some coins. In other Western countries, the custom has something to do with an angel or fairy. According to tradition (傳統), a child puts a lost tooth under the pillow before going to bed. While the child is sleeping, the Tooth Fairy takes the tooth and leaves something under the pillow. In France, the Tooth Fairy leaves a small gift or candy while in America, some money. As for how the fairy deals with the lost teeth, it is still something left for people to guess.

33. What is the main idea of this reading?

- (A) Tooth Fairy leaves money for children's lost teeth.  
 (B) Traditions about children's lost teeth may be different from culture to culture.  
 (C) Many Western countries have similar traditions about lost teeth.  
 (D) Animals are important in the customs of children's lost teeth.

34. What happens to the lost tooth in different cultures?

- (A) In Korea, the magpie changes it into a black and white bird.  
 (B) In Mongolia, it is eaten by children to have a strong new one.  
 (C) In Spain, the mouse keeps it under the pillow.  
 (D) In France, people don't know what the fairy does with the lost tooth.

35. Which of the following questions is NOT answered in the reading?

- (A) Where do the Koreans throw children's lost teeth?  
 (B) What does a Mexican mouse leave after taking a lost tooth?  
 (C) How much money does the Tooth Fairy leave for a lost tooth?  
 (D) When does a French child put his lost tooth under the pillow?

第二部份：30%，每題 2 分

36. 他們擔當法律守護人的光榮使命，當有交通違規事件發生時，翰文負責取締、開單告發處罰等工作；當有犯罪嫌疑人被移送法辦時，韋霖負責偵查訊問，以為決定是否起訴的依據。他們肩負著維護法律公平正義的重責大任。請問：依據上述內容，翰文、韋霖所擔任的職務，依序應為何者？  
(A)警察、法官 (B)法官、警察 (C)警察、檢察官 (D)法官、檢察官
37. 某假日阿達和同學相約一起逛百貨公司，看到一組新發行的遊戲卡帶，非常喜歡，可是身上帶的錢不夠，一時衝動，就趁店員不注意時，順手把卡帶放到袋子裡拿回家。請問：阿達的行為，最主要觸犯下列哪一種法律的規定？  
(A)《民法》 (B)《刑法》  
(C)《公平交易法》 (D)《社會秩序維護法》
38. 近年來，美國兒童超重的現象日益增多，根據統計，美國現今有 600 萬名肥胖兒童，比二十年前增加了一倍，造成特大號童裝炙手可熱，即使在換季大拍賣時也不打折，價格還不斷的水漲船高。請問：綜合上述現象判斷，依經濟學的法則，特大號童裝的供需關係，最有可能的兩種狀況為下列何者？  
(A)供給量增加，需求量減少；供給量不變，需求量增加  
(B)供給量減少，需求量增加；供給量增加，需求量增加  
(C)供給量不變，需求量增加；供給量減少，需求量增加  
(D)供給量不變，需求量增加；供給量增加，需求量增加
39. 今年（94）底又將舉行縣市長選舉，每當選舉的時候，我們常可聽到候選人發表各種政見，表達自己的政治理念。請問：就縣市長的職權而言，下列四位候選人所提出的政見，何者是比較合理可行的？  
(A)何忠孝說當選後要爭取與姊妹市建立邦交關係  
(B)林仁愛說當選後要積極規劃推展觀光旅遊活動  
(C)陳信義說當選後要推動稅制改革，解決財政困境  
(D)周和平說當選後要捍衛領海主權，保護漁民權益
40. 大雄和小靜剛從某知名的研究所畢業，憑著他們的(甲)專業、創意及口才，成立了一間工作室，順利完成多項資訊產品的行銷企劃，短期內就賺到了人生第一個(乙)一千萬元，並且回母校教授相關課程。因應市場需要，他們決定擴充業務，成立網路販賣通路，不但召募多名(丙)助理，還購置(丁)貨車以因應擴充業務的需求。請問：上述內容中，屬於生產要素中的「資本」為何者？  
(A)甲、丙 (B)乙、丁 (C)乙、丙 (D)甲、丁
41. 「原始史料」是指歷史事件當時留下的資料，「二手史料」則指後來研究的成果或後人的評論。根據上述定義，判斷下列哪一則敘述是正確的？  
(A)《詩經》的國風，為民間歌謠，是研究西周豐富的原始史料  
(B)《資治通鑑》對戰國時代的書寫，可以作為當時的原始史料  
(C)魯迅的《阿 Q 正傳》描繪近現代中國小民的型態，是研究當代的原始史料  
(D)亞當斯密《國富論》，分析 18 世紀的經濟發展並預測未來，屬於原始史料

42.小洋爲了歷史報告，在圖書館找到兩則資料：

一：1902年「臺灣蔗糖獎勵規則」，總督府對經過認可的製糖公司發給獎勵金。

二：1905年「臺灣製糖廠取締規則」，未經總督府許可，不得設立新式糖廠，蔗農生產的甘蔗不得自行賣出。

他想起教科書寫道：「日本在臺灣發展殖民經濟，由新式糖廠決定甘蔗收購的價格。」

請問他可以根據這些資料做出怎樣的判斷？


- (A)臺資決定臺灣糖業的發展 (B)帝國主義經濟以政策保護日商  
(C)總督府鼓勵蔗農設立工廠 (D)自由市場弱肉強食的結果

43.十七世紀起，歐洲國家各自透過選擇新教，脫離天主教，以便爭取國家主權；如今廿一世紀的歐盟，卻已經開始慢慢修正歷史教科書中彼此仇恨的情節，降低國家主權，謀求國際合作。這樣的轉變，可以預見哪一種意識形態正逐漸沒落？

- (A)民族主義 (B)帝國主義 (C)資本主義 (D)共產主義

44.如圖(二)所示，你認爲做「口述歷史」時，應該掌握的原則是什麼？

- (A)你只能選擇歷史事件的關鍵人物作訪問  
(B)受訪者說的內容需要與其他資料對照使用  
(C)受訪者親身經歷事件的發生，他的口述資料一定可信  
(D)爲了節省時間，受訪者的說法只需整理大意即可



圖(二)

45.法國神父馮秉正(Joseph de Mailla)(1703-1748)在1714年(康熙53年)到台灣南部繪製地圖。他的報告寫道：「台灣分爲東邊與西邊，只有西邊才屬於中國。漢人爲了淘金而開發東邊荒地，不惜屠殺原住民。這裡的原住民沒有美洲印地安易落魁人(Iroquois)粗暴，天性溫柔平和，比中國傳統的哲學家還懂哲學。」請你檢視馮神父說法的正確性，下列哪一項是對的？

- (A)原住民比印地安人平和  
(B)漢人往東部開墾是爲了金礦  
(C)當時中國政府只能控制西部  
(D)中國人的哲學思維的確不如原住民

46.今年(94)台北縣的國小新生入學人數大為減少，據估計減招了600多班，而台灣很多地區也有如此現象。若其他條件不變，人口改變維持這種趨勢，未來台灣地區面臨的主要人口問題包括下列何者？

- 甲、人口素質低落
- 乙、國家勞動力供應不足
- 丙、適婚年齡的人難以找到結婚對象
- 丁、青壯年人口扶養負擔加重
- 戊、老年人的安養問題更趨嚴重

(A)甲乙丁 (B)甲丁戊 (C)乙丙丁 (D)乙丁戊

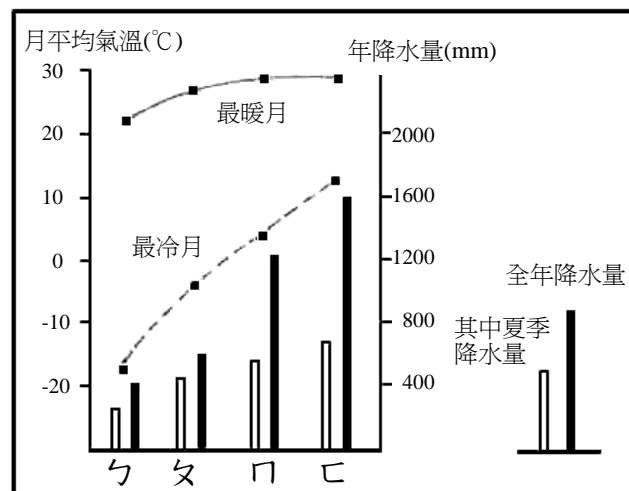
47.表(一)為氣候分類標準，圖(三)為中國某四個海拔高度相近的城市(ㄅㄆㄇㄉ)的氣候資料，請根據圖表資料選出以下推論正確者：

- 甲、緯度最高的城市：ㄅ
- 乙、作物生長季最長的城市：ㄇ
- 丙、乾溼季最分明的城市：ㄆ
- 丁、四個城市均屬溫帶季風氣候

(A)甲乙 (B)甲丙 (C)乙丙 (D)乙丁

表(一)

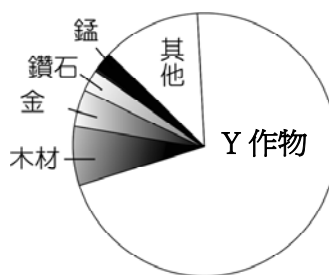
區分	標準	名稱
氣溫	最冷月均溫 > 18°C	熱帶
	最冷月均溫 0°C ~ 18°C	副熱帶
	最冷月均溫 < 0°C	溫帶
年雨量	> 400 mm	濕潤(季風)
	200~400 mm	草原
	< 200 mm	沙漠
高度	> 3000 公尺	高地



圖(三)

48.圖（四）為 X 國主要出口貿易貨品示意圖，圖（五）為該國出口貨品中 Y 作物銷售局發出的一則通告。請根據此兩圖，判斷 X 國所在地區及 Y 作物的名稱各為何？

- (A)亞洲：稻米
- (B)非洲：可可
- (C)大洋洲：椰子
- (D)中南美洲：甘蔗



圖（四）

### 通告

- (一)由於世界市場需求有增長，今年度本作物的收購價格將提高 4%。
- (二)政府所購的肥料、農藥已運抵，有需要者請即洽購。
- (三)近年已有部分農場種植多樣化，唯數量不多，凡有志改種其他作物者，政府可提供援助。

Y 作物銷售局

圖（五）

49.國旗除了代表國家之外，旗面上的圖案設計，也能展現該國的文化特色。如圖（六）這面國旗，左上角的圖案為殖民時期，殖民母國的國旗圖案；右側的南十字星座，是南半球指引方向的重要依據。請問此國旗代表何國？

- (A)巴西 (B)智利 (C)紐西蘭 (D)馬來西亞



圖（六）

50.三位來自世界不同地區的中學生，在網站上介紹自己所屬區域有關「牛」的文化：

- 甲生：在傳統農業時代，農人都使用牛隻耕田。農人和牛建立濃厚的感情，並不輕易將牛賣掉或宰殺食用。
- 乙生：城市裡到處可見慢條斯理的牛擋在路中。傳說中牛是濕婆神的騎乘，被視為宗教上的崇拜對象，所以我們對牛都很尊敬。
- 丙生：農人種植飼料作物或用天然草料，畜養萬頭牛隻。這些牛隻提供我們肉、乳製品的來源，並大量外銷世界各地。

請問上述三位學生最可能分別來自何地？

- (A) 伊朗、印度、加拿大 (B)台灣、印度、美國
- (C) 日本、伊朗、澳洲 (D)印度、中國大陸、荷蘭

第三部份：30%，每題 1.5 分

51. 下列選項何者用字完全正確？

- (A) 班門弄斧 / 可見一斑 (B) 老態龍鐘 / 鍾鳴鼎食  
(C) 一芥書生 / 無遠弗界 (D) 鳶飛唳天 / 風聲鶴戾

52. 下列引號中的字音，何者有異？

- (A) 瓜「瓟」 縣「縣」 / 耄「耄」 嵩壽 / 四時「迭」代  
(B) 身陷囹「圉」 / 良「窳」不齊 / 風乎舞「雩」  
(C) 一語成「讖」 / 「疢」疾難治 / 齟「齟」之齡  
(D) 三審定「讞」 / 「贗」品充斥 / 弔「唁」喪家

53. 「孤獨，以及最大絕望時，特別容易憶起，那年少時代，也曾暗藏一把溫柔的長箭，於嫩綠的胸中，蓄意化妝成書生的模樣，兩扇綸巾，吟一闕綺麗的宋詞，秉著善意、多情的紅燭，祕密跟蹤一株身批古典衣裳、頭插兩朵金簪的秋菊。」

上文中共有幾個錯字？ (渡也《歷山手記》)

- (A) 二個 (B) 三個 (C) 四個 (D) 五個

54. 關於漢字的結構，下列何者錯誤？

- (A) 有依形體描繪圖像的，如：豆、自  
(B) 有加上記號表達概念的，如：末、牟  
(C) 有結合兩個以上的形符表達另一個意思的，如：祭、琴  
(D) 有用一半做形符，另一半做聲符，結合成一個新字的，如：樓、綽

55. 有些中國字是由幾個字拼起來的，具有一種拆合性，這種拆合性產生了文字的趣味。以下何者隱含二個拆合字的解析？

- (A) 春風和暖，三人同日去觀花 (B) 何門巨族，添人添口又添丁  
(C) 門口捎問，始信人言不我欺 (D) 潘氏世家，有水有田兼有米

56. 「人在船上，船在水上，水在□□上 / □□在，□□在我剎那生滅的悲喜上。」

(周夢蝶〈擺渡船上〉) 請仔細閱讀這首短詩，上述三個□□內最宜填上：

- (A) 波光 (B) 無盡 (C) 大海 (D) 寂寞

57. 甲、有些事已經陳舊得□了起來，記憶卻依舊鮮明，彷彿打開甕蓋，都活生生要跳將出來。

乙、聽說住在北極的人們，他們交談的方式是這樣的：他們誰也聽不到誰，因為漫天漫地淹過來的風雪，他們只好把彼此凍成雪塊的聲音帶回去，生一盆爐火，慢慢的□來聽。

上列二段文字中，□依序宜填入：

- (A) 糊 / 煮 (B) 醬 / 烤 (C) 花 / 堆 (D) 黴 / 剝

58. 「『黃帝之史倉頡見鳥獸蹄迹之跡……初造書契』，我願我是一枚梅花鹿或野山羊的蹄痕，清清楚楚地拓印在古代春天的原隰上，如同條理分明的□□，被偶然經過的倉頡看到。」

(張曉風〈你要做什麼〉)

上列文字敘述中，□□的語詞最宜填入：

- (A) 文字 (B) 斑馬 (C) 辯者 (D) 版畫

59. 下列選項描寫的節令，何者正確？
- (A) 赤帝當權，黃梅應午；角黍蒲觴，漫酬景物。——清明  
 (B) 銀河清淺，玉露微茫。瓦鵲橋於長空，度天孫於碧落。——七夕  
 (C) 是節兒童嬉笑，老幼團圞（團圓）。爆竹在庭，桃符在戶，柏酒在壺。——元宵  
 (D) 前兩日謂之寒食。園林織錦，隄草鋪茵。——端午
60. 「願君學長松，慎勿作桃李。受屈不改心，然後如君子。」句中對於「桃李」的看法，與哪一個選項最接近？
- (A) 令公「桃李」滿天下，何用堂前更種花  
 (B) 榆柳蔭後檐，「桃李」羅堂前  
 (C) 「桃李」不言，下自成蹊（蹊：小路）  
 (D) 「桃李」雖艷，何如松蒼柏翠之堅貞
61. 「雲對雨，雪對風，晚照對晴空。來鴻對去雁，宿鳥對鳴蟲。三尺劍，六鈞弓，嶺北對江東。人間清暑殿，天上廣寒宮。\_\_\_\_\_，\_\_\_\_\_。\_\_\_\_\_，途次早行之客；\_\_\_\_\_，溪邊晚釣之翁。」 《聲律啟蒙·一東上平韻》
- 甲、一園春雨杏花紅                      乙、兩岸曉煙楊柳綠  
 丙、兩鬢風霜                              丁、一簑煙雨
- 請根據「平仄」以及「用韻」的原則判斷，以上\_\_\_\_\_依序宜填入：
- (A) 乙甲丙丁              (B) 丁丙甲乙              (C) 甲乙丙丁              (D) 丙丁乙甲
62. 律詩中，對仗關係一向是詩人必須匠心獨運之處。仔細比較下列詩句，找出一個「語序結構」與其他三者明顯不同的選項：
- (A) 天意憐幽草，人間重晚晴                      (B) 吳楚東南坼，乾坤日夜浮  
 (C) 山光悅鳥性，潭影空人心                      (D) 微雲淡河漢，疏雨滴梧桐
63. 有一執袴子弟整日酗酒豪賭，沒多久敗光家產，沒錢過年，又怕鄰居笑話，於是寫了一副春聯貼在門上：「行節儉事，過淡泊年」。第二天早上起床，卻發現有人在上下聯前面各加一字，這副春聯變成譏刺他的敗家行徑。請問所加各為何字？
- (A) 不、想              (B) 早、免              (C) 要、好              (D) 樂、喜
64. 我思想，故我是蝴蝶  
 萬年後小花的輕呼  
 透過無夢無醒的雲霧  
 來震撼我斑斕的彩翼                      （戴望舒〈我思想〉）
- 關於此詩的敘述，以下何者正確？
- (A) 「蝴蝶」是詩的象徵，人先有了詩意，才能慢慢構成了詩  
 (B) 「小花」代表萬年後詩人不朽的生命，依然值得後人仰望  
 (C) 經過時代的變化，詩人的作品如「雲霧」般，不易被人理解  
 (D) 詩的「彩翼」永遠光輝斑斕，震撼著詩人，帶來創作的靈感

65.在《歌劇魅影》一書中，魅影艾瑞克以〈勝利的唐璜〉一曲，傾洩了「醜陋終因愛情的羽翼而昇華」，在現實的粗礪中，仍昇華出高昂的情懷。以下何者未隱含此類情感線索的轉化？

- (A)一彎弧線，輕柔地／承載天地所有的重負／一條會唱歌的溪流／  
把一粒一粒頑石／雕成剔透的水晶（林廣〈微笑〉）
- (B)原來／喜悅與疼痛／都是說不出話來的／小精靈，在無聲的嘆息上／  
裸身一現／隨即又／重新盛裝（陳斐雯〈覺〉）
- (C)樹葉疲倦的睡了／我在唱歌／幻滅的星已垂沈／這時候！宇宙開始黎明，  
時間與愛永在（朱沈冬〈棲留〉）
- (D)當我驚醒／當年輕的夢被午夜驚醒／被及胸的風／與花與雪與月／  
驚醒／白髮，我聽到你一根／又一根裂膚而出的聲音（沈志方〈給時間〉）

66.「前往印度大吉嶺的喜馬拉雅山特快車，窄軌車身上刻著一段話：「『慢』(slow) 這個英文字有四個字母，『生命』(life) 也一樣。『速度』(speed) 這個字有五個字母，『死亡』(death) 也一樣」。關於這段文字的解說，何者最為適切？

- (A) 登山需要加速，所以強調「速度」
- (B) 勸人不要開快車，以免肇事枉送性命
- (C) 「死亡」跟「生命」都是人人必須經歷的
- (D) 「生命」需要慢慢品味與享受，死亡則不必

67.

哀公問於孔子曰：「吾聞夔一足，信乎？」曰：「夔，人也，何故一足？彼其無他異，而獨通於聲。堯曰：『夔一而足矣。』使為樂正。故君子曰：『夔有一足』，非一足也。」

關於本段文字的說明，何者正確？

- (A) 文中一共有五個「足」字，只有一個當動詞用
- (B) 「夔有一足」與「非一足也」二句中的「足」音義相同
- (C) 夔因為精通音樂，被堯任命為樂官之長
- (D) 此則故事主旨在說明孔子好為人師，敢於指正魯哀公之謬誤

68.

清明以後，地氣自南而北，則南風為常；霜降以後，地氣自北而南，則以北風為常。……南風壯而順，北風烈而嚴。南風多間，北風罕斷。南風駕船，非颶颶之時，常患風不勝帆，故商賈以小舟為速；北風駕船，雖非颶颶之時，亦帆不勝風，故商賈以舟大為穩。  
(清朝高拱乾《台灣府志》卷七〈風土志〉)

根據這段描寫台灣海峽季風交替的資料，以下敘述何者正確？

- (A) 台灣海峽春夏吹西南季風，風向利於航行，只有颶風、颶風期間不能通航
- (B) 秋冬時東北季風幾乎未曾間斷，但風力不足，只有大船才能航行
- (C) 風向變化往往會影響船行速度與安全，因此商旅必須準備不同大小的船來因應
- (D) 台灣與中國大陸之間只有「清明」跟「霜降」這兩個節氣之間才能通航

69.

阿富汗少女眼瞳偵睜的神色，既驚且怒，在《國家地理雜誌》的封面上，瞪得全世界背脊發毛，良心不安。僅此一瞥，比起阿富汗派遣能言善辯的外交官去聯合國控訴，更為有力，更加深刻，更像一場眼睜睜的夢魘。

（余光中〈誰能叫世界停止三秒鐘〉）

此段文字主要在凸顯什麼？

- (A) 戰爭對人類而言像一場恐怖的夢魘
- (B) 外交人員的辦事能力不及一名年輕弱女子
- (C) 專業攝影瞬間影像的捕捉，比文字語言更能發揮強大的效果
- (D) 阿富汗的悲劇是聯合國對人權漠視所造成的

70.

奇峰絕壁，大水懸流，怪石蒼松，幽人羽客；大抵以墨汁淋漓、煙嵐滿紙、曠如無天、密如無地為上。

百叢媚萼，一幹枯枝，墨則雨潤，彩則露鮮；飛鳴棲息，動靜如生；悅性弄情，工而入逸；斯為妙品。

（徐渭〈與兩畫史〉）

關於本文，以下敘述何者有誤？

- (A) 第一段論山水，第二段論花鳥
- (B) 第一段描繪氣勢磅礴之景觀，第二段呈現神韻靈動之境界
- (C) 文中的「懸流」為瀑布，「幽人」為隱士，「羽客」則為道士之別稱
- (D) 繪山水需掌握淡墨渲染之效果，繪花鳥則應強調工整細膩之筆觸